

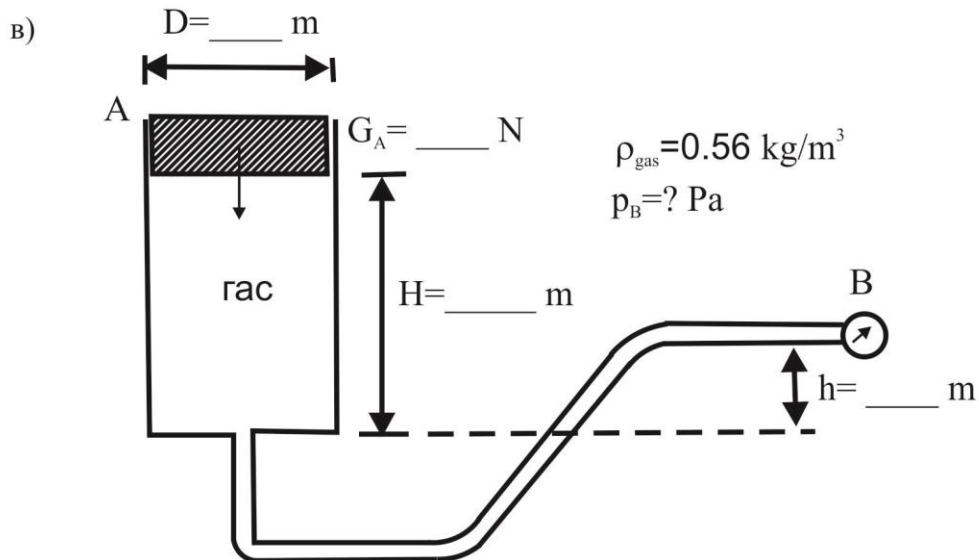
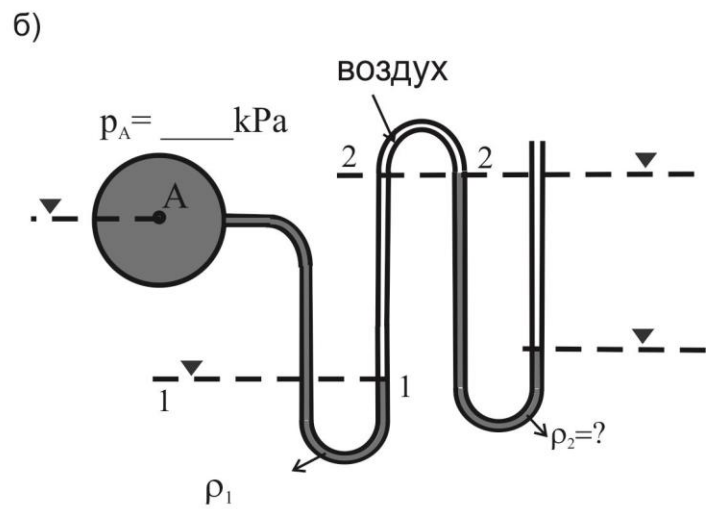
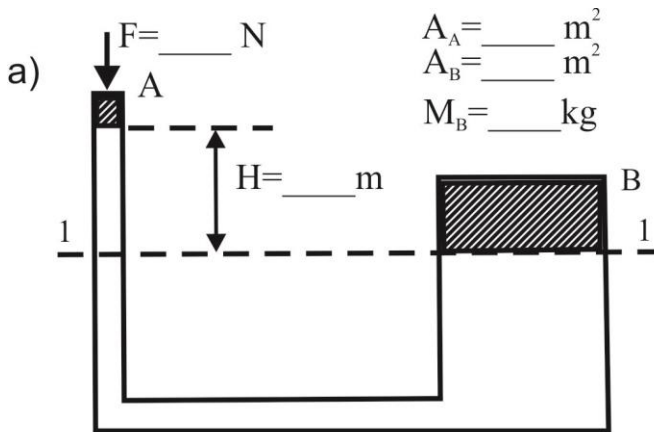
1 ЗАДАЧА

Студент: _____ бр.индекс: _____ поени _____

Проблематика: МИРУВАЊЕ НА ФЛУИДИТЕ

За состојбата како на скицата да се определи:
читањето на манометарот- h (m), p (Pa),
густина на флуидот- ρ_2 (kg/m^3),
маса на клипот B - M_B (kg).

$\rho_{\text{вода}}=1000 \text{ kg/m}^3$
 $p_{\text{атм}}=101 \cdot 10^3 \text{ Pa}$



Асистент,

Предметен наставник,
Вон.проф.д-р Виолета Ѓешовска