



Студии Геодезија - Додипломски
Предмет Основи на хидротехника

Студент _____

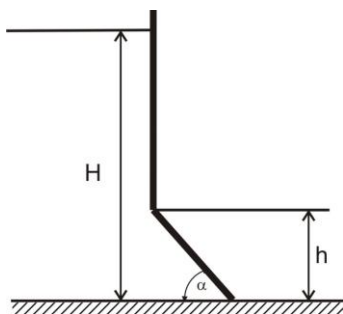
Поени _____

ПРОГРАМСКА ЗАДАЧА 3 ХИДРАУЛИКА

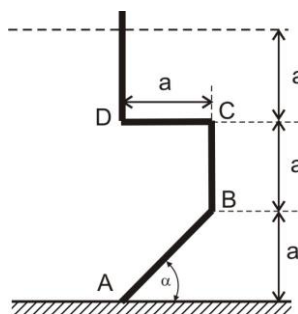
За преградата како на скицата подолу и со податоците зададени во табелата, да се определи интензитетот на резултантната сила од хидростатички притисок.

a (m)	h (m)	α ($^\circ$)	B (m)	H (m)	$\rho_{\text{вода}}$ (kg/m^3)
					1000

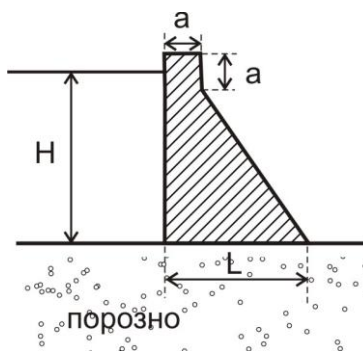
а)



б)



в)



Предметен наставник:

Доц. д-р Виолета Ѓешовска